



Politechnika Łódzka

Instytut Fizyki

Laboratorium elektroniki

Ćwiczenie E08IN

Wzmacniacz operacyjny

Spis treści:

| | |
|---|----|
| 1. Cel ćwiczenia..... | 3 |
| 2. Zagrożenia | 3 |
| 3. Wprowadzenie teoretyczne..... | 4 |
| 4. Dostępna aparatura | 6 |
| 5. Przebieg doświadczenia..... | 7 |
| 5.1. Wzmacniacz w układzie odwracającym – wersja podstawowa..... | 7 |
| 5.2. Wzmacniacz w układzie nieodwracającym – wersja podstawowa..... | 11 |
| 5.3. Wzmacniacz w układzie nieodwracającym – wtórnik – wersja rozszerzona | 15 |
| 6. Wskazówki do raportu..... | 18 |
| 7. Literatura | 21 |
| 7.1. Literatura podstawowa | 21 |
| 7.2. Literatura uzupełniająca | 21 |
| 8. Aneks | 22 |
| Wartości rezystancji dla: $Z_1, Z_2, R_3, R_L, R_{S1}, R_{S2}, R_{S3}$ oraz pojemności dla: C_1, C_2 i C_3 | 22 |

Przed zapoznaniem się z instrukcją i przystąpieniem do wykonywania ćwiczenia należy opanować następujący materiał teoretyczny:

1. Rodzaje i funkcje sprzężeń zwrotnych. [1], [3], [4]
2. Budowa, działanie i własności wzmacniacza różnicowego. [1÷5].
3. Właściwości idealnego wzmacniacza operacyjnego. [1÷5].
4. Właściwości i wykorzystanie rzeczywistego wzmacniacza operacyjnego. [1÷5].

1. Cel ćwiczenia

Celem ćwiczenia jest poznanie właściwości wzmacniaczy operacyjnych oraz możliwości wykorzystania ich do realizacji bloków funkcjonalnych poprzez dobór odpowiednich sprzężeń zwrotnych.

2. Zagrożenia

| Rodzaj | Brak | Małe | Średnie | Duże |
|---|------|------|---------|------|
| zagrożenie elektryczne | | + | | |
| zagrożenie optyczne | + | | | |
| zagrożenie mechaniczne (w tym akustyczne, hałas) | + | | | |
| zagrożenie polem elektro-magnetycznym (poza widmem optycznym) | + | | | |
| zagrożenie biologiczne | + | | | |
| zagrożenie radioaktywne (jonizujące) | + | | | |
| zagrożenie chemiczne | + | | | |
| zagrożenie termiczne (w tym wybuch i pożar) | + | | | |

Uwaga!

Przewody z wtykami bananowymi są przeznaczone wyłącznie do użytku w obwodach niskiego napięcia – nie wolno ich podłączać do gniazd sieci zasilającej 230 V.

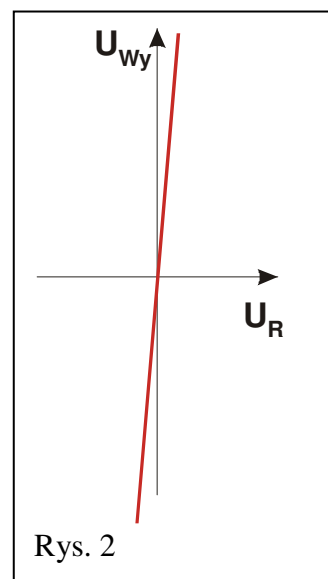
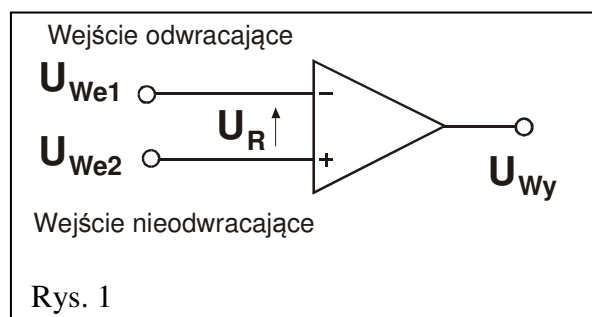
3. Wprowadzenie teoretyczne

Wzmacniacz operacyjny to wielotranzystorowa struktura, wzorowana na klasycznym dwutranzystorowym wzmacniaczu różnicowym (o dwóch wejściach symetrycznych oraz pojedynczym, niesymetrycznym wyjściu) i własnościach zbliżonych do własności wzmacniacza idealnego (patrz: Tabela 1).

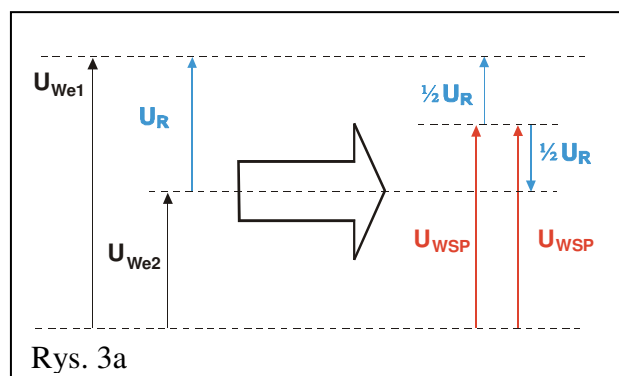
Tabela 1 - Parametry wzmacniacza operacyjnego.

| Parametry | Wzmacniacz idealny | Wzmacniacz rzeczywisty |
|--------------------------------------|---------------------|--|
| Wzmocnienie napięciowe | ∞ | $10^5 \div 10^6$ |
| Rezystancja wejściowa [Ω] | ∞ | $10^5 \div 10^8$ |
| Rezystancja wyjściowa [Ω] | 0 | $10 \div 100$ |
| Tłumienie składowej wspólnej sygnału | 1: ∞ | 1: $10^3 \div 1: 10^6$ (60 \div 120 dB) |
| Zakres częstotliwości pracy [MHz] | $0 \div \infty$ | $0 \div 500$ |
| Napięcie wyjściowe [V] | $0 \div \pm \infty$ | Ograniczone napięciami zasilania |

Symbol graficzny wzmacniacza operacyjnego z opisem wejść i wyjść oraz charakterystyką przejściową przedstawiono na rys. 1 i rys. 2.



Pomiędzy napięciami wejściowymi, napięciem różnicowym U_R oraz tzw. napięciem wspólnym obu wejść występują następujące zależności przedstawione w ramce obok rys. 3, na którym zależności te zobrazowano graficznie.



$$U_R = U_{We1} - U_{We2};$$

$$U_{WSP} = \frac{1}{2} [U_{We1} + U_{We2}];$$

$$U_{We1} = U_{WSP} + \frac{1}{2} U_R \text{ oraz } U_{We2} = U_{WSP} - \frac{1}{2} U_R;$$

$$U_{Wy} = k_u * U_R;$$

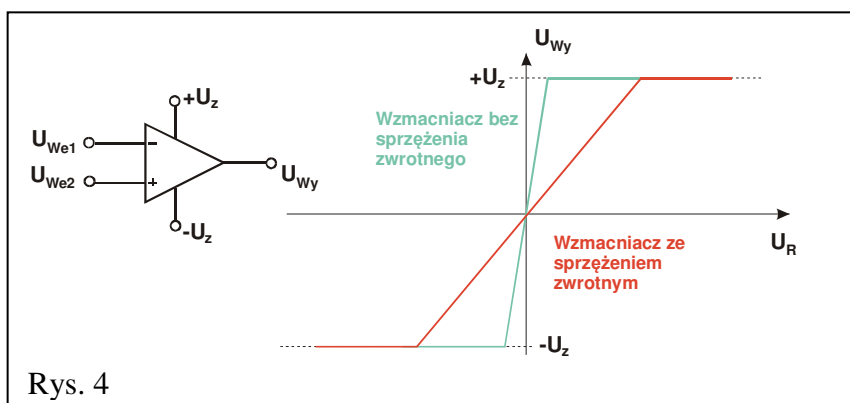
$$U_{Wy} = k_u * [U_{We1} - U_{We2}].$$

Rys. 3b

Od strony wejść wzmacniacza, napięcia U_{We2} i U_{We1} można opisać wzorami na rys. 3b. Dla idealnego wzmacniacza różnicowego składowa wspólna (U_{WSP}) nie ma wpływu na wielkość napięcia wyjściowego U_{Wy} . Jednak w przypadku wzmacniacza rzeczywistego:

$$U_{Wy} = k_{UR} * U_R + k_{UWSP} * U_{WSP},$$

gdzie k_{UR} jest współczynnikiem wzmocnienia napięcia różnicowego U_R zaś k_{UWSP} jest współczynnikiem wzmocnienia U_{WSP} napięcia wspólnego obu wejść wzmacniacza. Wielkość tłumienia wpływu składowej wspólnej na napięcie wyjściowe określa współczynnik CMRR (ang. *common mode rejection ratio*), definiowany jako iloraz współczynnika wzmocnienia sygnału różnicowego k_{UR} i współczynnika wzmocnienia sygnału wspólnego k_{UWSP} . Znaczna wartość tego współczynnika decyduje o tym, że tylko składowa różnicowa determinuje wielkość napięcia wyjściowego poprzez współczynnik wzmocnienia napięciowego k_{UR} (w przypadku wzmacniaczy rzeczywistych, napięcie wyjściowe posiada ograniczenie ze strony napięć $+U_z$, $-U_z$ zasilających wzmacniacz, np. $\pm 15V$, których z oczywistych względów nie może przekroczyć) – rys. 4.



Wyszczególnione w Tabeli 1 parametry teoretyczne i zbliżone do nich parametry rzeczywiste wzmocnienia, ograniczają bardzo dziedzinę zastosowań „gołych”, tzn. pozbawionych jakichkolwiek elementów zewnętrznych, wzmacniaczy. Natomiast przyłączone do wzmacniacza elementy – w szczególności łączące jego wyjście z wejściem (lub z obu wejściami) – radykalnie zmniejszają to wzmocnienie (mówimy wówczas, że wzmacniacz został „obwiedziony” sprzężeniem zwrotnym, czyli że część napięcia wyjściowego została doprowadzona z powrotem na jego wejście). Tę pozorną stratę rekompensuje nam nabycie przez wzmacniacz nowych cech – takich, jakie posiadają dodatkowo dołączone elementy. Możliwe jest więc tworzenie bloków funkcjonalnych, zawierających w gałęziach sprzężeń zwrotnych zarówno rezystory czy kondensatory, jak i diody lub tranzystory. Powstają w ten sposób układy analogowych sumatorów sygnałów z odwracaniem bądź bez odwracania fazy wzmacnianych sygnałów (zależnie od tego, które z wejść wzmacniacza jest wejściem odniesienia, a do którego doprowadzany jest wzmacniany sygnał), układy całkujące lub różniczkujące, wreszcie nieliniowe analogowe wzmacniacze logarytmujące czy potęgujące sygnały wejściowe.

4. Dostępna aparatura

Stanowisko pomiarowe wyposażone jest w zestaw aparatury pomiarowej, w skład którego wchodzi następujące elementy:

- Zasilacz stabilizowany SPD3303D,
- Generator funkcyjny DF1641B,
- Analogowy oscyloskop dwukanałowy GOS-620 lub GOS-630,
- Multimetry: KT890, M-3800, M-4650, UT-804 lub Protek 506.

Ponadto na życzenie wykonawców ćwiczenia oscyloskop analogowy może być zastąpiony oscyloskopem cyfrowym typu SDS1052DL.

Instrukcje obsługi do multimetrów, zasilacza laboratoryjnego, generatora funkcyjnego i oscyloskopów dostępne są na stronie internetowej [6].

Elementem stanowiska są dodatkowo:

- tzw. moduł doświadczalny do badania wzmacniacza operacyjnego oraz
- tzw. źródło napięciowe (ZN).

UWAGA!!!

Wzmacniacz operacyjny zasilany jest z zasilacza SPD3303 pracującego w trybie SERIAL z nastawionymi uprzednio, symetrycznymi względem masy, napięciami $-20V$ i $+20V$.

Pomiary wykonywane są zarówno dla stałych napięć wejściowych, gdzie źródłem sygnału jest Źródło Napięciowe (ZN), jak i dla sygnałów przemiennych, gdzie źródłem sygnału jest generator funkcyjny (DF1641B). W przypadku napięć stałych efekt pracy wzmacniacza badany jest przy pomocy multimetrów pracujących w trybie woltomierza: (Protek506 lub M-4650 lub M-4660 lub UT804) dołączonych do wejścia i wyjścia wzmacniacza operacyjnego, zaś dla napięć przemiennych przy pomocy oscyloskopu dwukanałowego (GOS-620 albo GOS-630 pracujących w trybie **DUAL**) i dołączonych do wejścia i wyjścia wzmacniacza operacyjnego.

Wzmacniacz operacyjny badany jest w typowych układach (z ujemnym sprzężeniem zwrotnym) – odwracającym oraz nieodwracającym.

Diody elektroluminescencyjne świecące w pobliżu wyjścia wzmacniacza sygnalizują jego stan nasycenia – tzn. osiągnięcie maksymalnego dodatniego napięcia na wyjściu wzmacniacza (dioda czerwona) albo maksymalnego napięcia ujemnego (dioda zielona). Nie jest to stan wskazujący na jakąkolwiek awarię wzmacniacza, chociaż zaczyna on wówczas pracować poza obszarem swojej pracy liniowej, w którym występuje proporcjonalne wzmocnienie sygnału wyjściowego (zgodnie z zadaniem sprzężeniem zwrotnym).

Fizyczny sposób podłączenia tych diod przedstawiony jest na panelu pomiarowym oraz na schematach symbolami o rozjaśnionym konturze (Rys. 5c, 6c, 7b). Stan diod elektroluminescencyjnych uzupełnia informacje o stanie wyjścia wzmacniacza pozyskiwane niezależnie ze wskazań multimetrów.

5. Przebieg doświadczenia

5.1. Wzmacniacz w układzie odwracającym – wersja podstawowa

(Schemat ideowy wg Rys. 5a, 5b; panel pomiarowy opisano na Rys. 5c).

Objaśnienia: FG – generator, OSC – oscyloskop, CH1 i CH2 – wejścia oscyloskopu, V – woltomierz.

Włączyć zasilacz, ustawić go w tryb **SERIAL**, a następnie nastawić symetryczne napięcie zasilania $\pm 20V$, nie załączając napięcia na wyjściach zasilacza.

5.1.1. Wyznaczenie charakterystyki przejściowej wzmacniacza operacyjnego

1. Dokonać połączeń wg Rys. 5a oraz Rys. 5c, tzn. jedną zworę (pionową - czarną) wpiąć w dolne położenie, natomiast drugą (poziomą - czerwoną) w położenie obok **We1**. Przełączniki **R₃** i **R_L** ustawić na „∞”. Multimetry pracujące jako woltomierze ustawić na zakres pomiaru napięć stałych 20 VDC lub 40 VDC (w zależności od użytego multimetru) i następnie jeden wpiąć pomiędzy gniazdo masy (\perp) a wejście **We1** oraz drugi pomiędzy gniazdo masy (\perp) a wyjście **Wy**.
2. Pokręta **Z₁** i **Z₂** ustawić w pozycjach „2” (Rys. 5c). Przełącznik w Źródle Napięciowym (ŻN) ustawić na poz. „2” (Rys. 5a).
3. Źródło Napięciowe (ŻN) dołączyć pomiędzy gniazdo masy (\perp) a wejście **We1**.
4. Po weryfikacji/sprawdzeniu układu przez opiekuna załączyć napięcie na wyjściach zasilacza.
5. Zmieniając gałką ŻN wartość napięcia wejściowego od $-12V$ do $+12V$ (z krokiem ok. $1V$) dokonać pomiaru napięcia wyjściowego (charakterystyka przejściowa), a wyniki zapisywać w tabeli A1. **Zwracać uwagę na to, aby w zakresach napięć wejściowych, w których następują silne zmiany napięcia wyjściowego zagęszczać pomiary (przykładowa charakterystyka pokazana jest na Rys. 8).**

Tabela A1 / (A1[#]) - Wzmacniacz odwracający.

| $Z_1 / (R_{S1}^{\#})$ | $Z_2 / (R_L^{\#})$ | Napięcie wejściowe | | Napięcie wyjściowe | |
|-----------------------|--------------------|--------------------|---------------------|--------------------|---------------------|
| [k Ω] | [k Ω] | U_{We} [V] | ΔU_{We} [V] | U_{Wy} [V] | ΔU_{Wy} [V] |
| | | | | | |

5.1.2. Pomiar rezystancji wejściowej wzmacniacza operacyjnego.

1. Wyznaczyć napięcie na wyjściu wzmacniacza przy jednym napięciu na jego wejściu wybranym w obszarze ukośnej części charakterystyki przejściowej.
2. Wypiąć zworę z położenia obok **We1** (Rys. 5c). W jej miejsce podłączyć rezystor **R_{S1}**.

3. Nie dokonując zmiany napięcia na wejściu wzmacniacza dokonać pomiaru napięcia wyjściowego. Wyniki pomiarów z punktów 1÷3 zapisywać w tabeli A1[#].
4. Odłączyć rezystor **R_{S1}**.

5.1.3. Pomiar rezystancji wyjściowej wzmacniacza operacyjnego

1. Ponownie zapiąć zworę w położenie obok **We1** (Rys. 5c).
2. Zadać napięcie na wejściu wzmacniacza tak, aby napięcie na wyjściu uzyskało wartość ok. +12V.
3. Przełączać kolejno pozycje przełącznika rezystora **R_L** notując każdorazowo wartości napięcia wyjściowego. Wyniki zapisywać w tabeli A1[#].

5.1.4. Pomiar pasma przenoszenia wzmacniacza operacyjnego

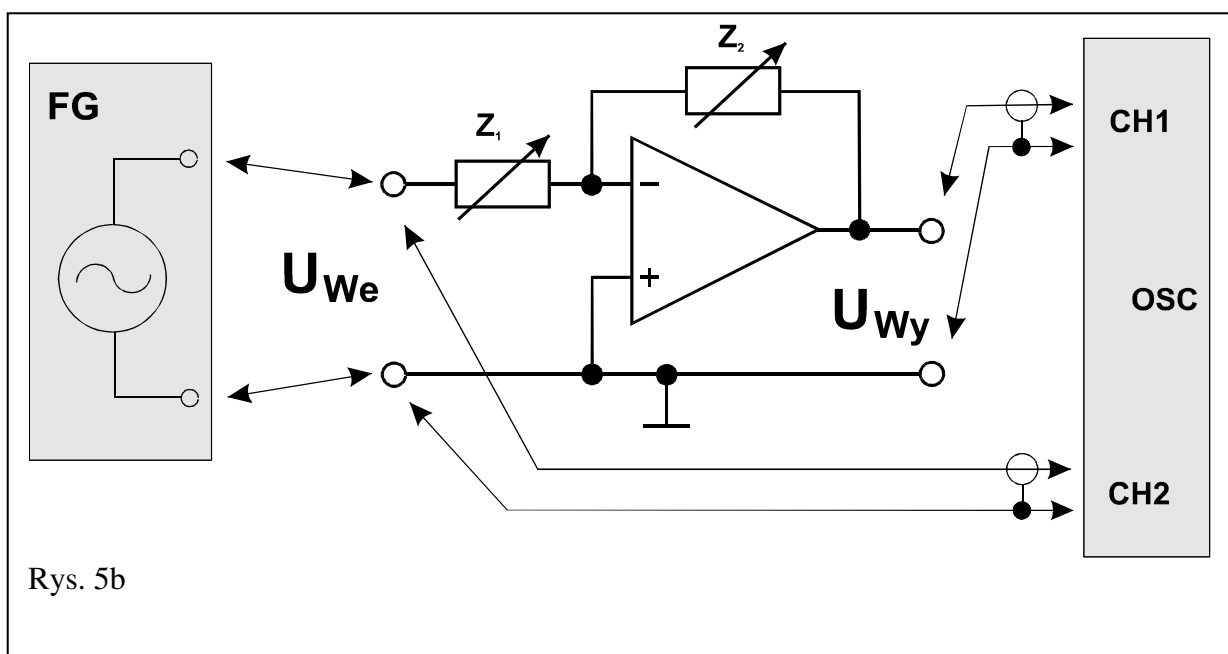
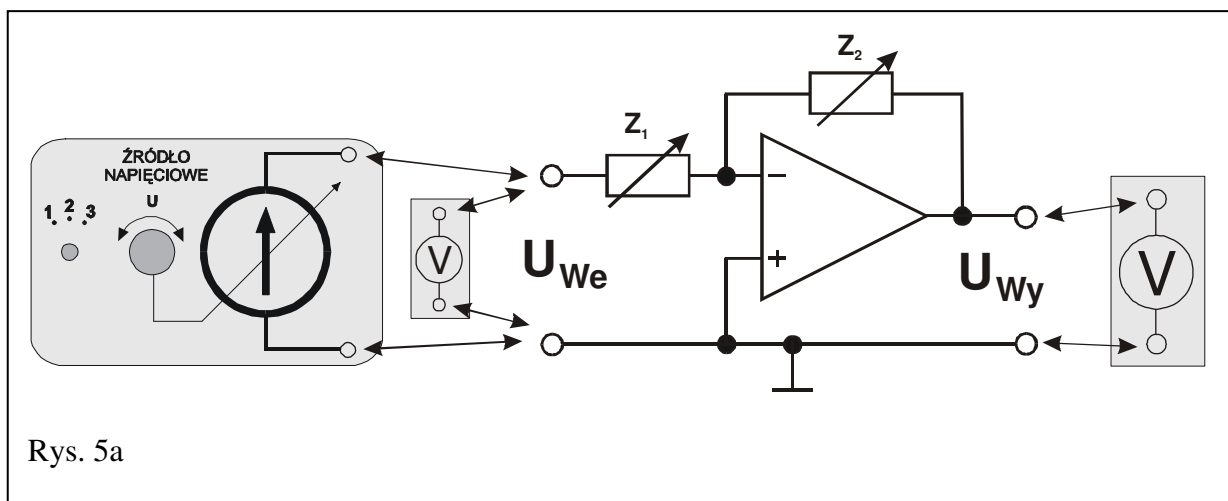
1. Odłączyć Źródło Napięciowe i multimetry pracujące w trybie woltomierzy DC.
2. Zgodnie z Rys. 5b zamiast Źródła Napięciowego podłączyć generator funkcyjny na wejście **We1** wzmacniacza operacyjnego (Rys. 5c).
3. Ustawić generator na tryb pracy z wybranym przebiegiem sinusoidalnym bez składowej stałej.
4. Do wyjścia **Wy** wzmacniacza (Rys. 5c) podłączyć oscyloskop ustawiony do pracy w trybie dwukanałowym (**DUAL**).
5. Pozycję przełącznika **Z₁** ustawić na „1”, przełącznika **Z₂** na „3” zaś **R_L** na „∞”.
6. Ustalić częstotliwość sygnału z generatora na ok. **500 kHz** (0,5 MHz).
7. Dobrać amplitudę napięcia z generatora oraz czułość oscyloskopu tak, aby przebieg napięcia na wyjściu wzmacniacza nie był zniekształcony. Zmniejszyć częstotliwość sygnału z generatora do ok. **300 Hz** i dokonać pomiaru wartości amplitudy sygnału wejściowego i wyjściowego. Amplitudę wyjściową potraktować jako wartość odniesienia podczas wykonywania kolejnych pomiarów.
8. Zwiększając stopniowo częstotliwość generatora (aż do ok. 500 kHz) określić takie częstotliwości, przy których amplituda sygnału wyjściowego maleje kolejno: 2 razy, 3 razy, 4 razy, 5 razy, 6 razy, 8 razy, 10 razy itp. Znaleźć ewentualnie więcej charakterystycznych częstotliwości pośrednich tak, aby dokładniej zrealizować punkt 3 opracowania wyników pomiarów opisany w Rozdziale 6 niniejszej instrukcji.
9. Za każdym razem zwracać szczególną uwagę czy sygnał wyjściowy nie jest zniekształcony. Dążyć do tego, aby nie był on „obcinany” od góry i od dołu. Przerysować wygląd ekranu oscyloskopu szczegółowo go opisując (nastawy oscyloskopu, rodzaj wzmacniacza, **Z₁**, **Z₂**, wzmocnienie, częstotliwość).

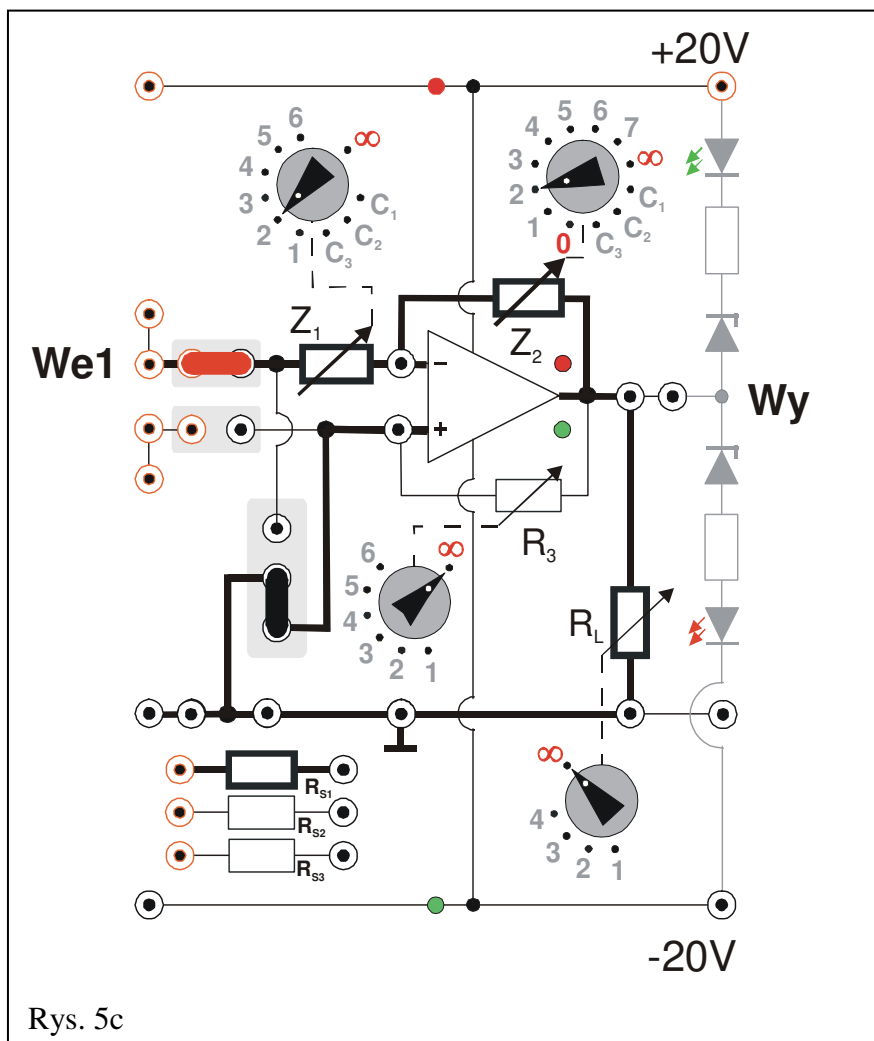
5.1.5. Pomiar współczynnika wzmocnienia wzmacniacza operacyjnego dla zmiennych napięć

1. Mając zestawiony układ jak w poprzednim punkcie, ustawić częstotliwość generatora na ok. **300 Hz**.
2. Zmieniając nastawy przełączników **Z₁** i **Z₂** obserwować przebiegi: wejściowy i wyjściowy zwracając uwagę, aby przebieg wyjściowy nie był zniekształcony. Kiedy wystąpi zniekształcenie należy skorygować wielkość

sygnału wyjściowego zmieniając w generatorze amplitudę sygnału wejściowego.

3. Dla kilku wybranych kombinacji nastaw przełączników Z_1 i Z_2 dokonać pomiaru amplitudy napięcia sygnału wejściowego i wyjściowego wzmacniacza. Wyniki zapisywać w tabeli A1 z adnotacją „Przebiegi zmienne”. Otrzymane pomiary są niezbędne do realizacji punktu 5 opracowania wyników pomiarów opisany w Rozdziale 6 niniejszej instrukcji.





Rys. 5c

5.2. Wzmacniacz w układzie nieodwracającym – wersja podstawowa

(Schemat ideowy wg Rys. 6a, 6b; panel pomiarowy opisano na Rys. 6c).

Objaśnienia: FG – generator, OSC – oscyloskop, CH1 i CH2 – wejścia oscyloskopu, V – woltomierz.

Włączyć zasilacz, ustawić go w tryb **SERIAL**, a następnie nastawić symetryczne napięcie zasilania $\pm 20V$, nie załączając napięcia na wyjściach zasilacza.

5.2.1. Wyznaczenie charakterystyki przejściowej wzmacniacza operacyjnego

1. Dokonać połączeń wg Rys. 6a i Rys. 6c, tzn. jedną zworę (pionową - czarną) wpiąć w górne położenie, drugą (poziomą - czerwoną) w położenie obok **We2**, przełączniki **R₃** i **R_L** ustawić na „∞”. Multimetry pracujące jako woltomierze ustawić na zakres pomiaru napięć stałych 20 VDC lub 40 VDC (w zależności od użytego multimetru) i następnie jeden wpiąć pomiędzy gniazdo masy (\perp) a wejście **We2** oraz drugi pomiędzy gniazdo masy (\perp) a wyjście **Wy**.
2. Pokrętki **Z₁** i **Z₂** ustawić w pozycjach „2” (Rys. 6c). Przełącznik w Źródle Napięciowym (ŻN) ustawić na poz. „2” (Rys. 6a).
3. Źródło Napięciowe (ŻN) dołączyć pomiędzy gniazdo masy (\perp) a wejście **We2**.
4. Po weryfikacji/sprawdzeniu układu przez opiekuna załączyć napięcie na wyjściach zasilacza.
5. Zmieniając gałką ŻN wartość napięcia wejściowego od $-12V$ do $+12V$ (z krokiem ok. $1V$) dokonać pomiaru napięcia wyjściowego (charakterystyka przejściowa), a wyniki zapisywać w tabeli A2. **Zwracać uwagę na to, aby w zakresach napięć wejściowych, w których następują silne zmiany napięcia wyjściowego zageścić pomiary (przykładowa charakterystyka pokazana jest na Rys. 8).**

Tabela A2 / (A2[#]) - Wzmacniacz nieodwracający.

| $Z_1 /$ ($R_{S2}^{\#} / R_{S3}^{\#}$) | $Z_2 / (R_L^{\#})$ | Napięcie wejściowe | | Napięcie wyjściowe | |
|--|--------------------|--------------------|---------------------|--------------------|---------------------|
| [kΩ] | [kΩ] | U_{We} [V] | ΔU_{We} [V] | U_{Wy} [V] | ΔU_{Wy} [V] |
| | | | | | |

5.2.2. Pomiar rezystancji wejściowej wzmacniacza operacyjnego.

1. Wyznaczyć napięcie na wyjściu wzmacniacza przy jednym napięciu na jego wejściu wybranym w obszarze ukośnej części charakterystyki przejściowej.
2. Wypiąć zworę z położenia obok **We2** (Rys. 6c). W jej miejsce podłączyć rezystor **R_{S2}**.
3. Nie dokonując zmiany napięcia na wejściu wzmacniacza dokonać pomiaru napięcia wyjściowego.

4. Powtórzyć poprzedni pomiar dla rezystora R_{S3} zamiast R_{S2} . Wyniki pomiarów z punktów 1÷3 zapisywać w tabeli A2[#].
5. Odłączyć rezystor R_{S1} .

5.2.3. Pomiar rezystancji wyjściowej wzmacniacza operacyjnego

1. Ponownie zapiąć zwoję w położenie obok **We2** (Rys. 6c).
2. Zadać napięcie na wejściu wzmacniacza tak, aby napięcie na wyjściu uzyskało wartość ok. +12V.
3. Przełączać kolejno pozycje przełącznika rezystora R_L notując każdorazowo wartości napięcia wyjściowego. Wyniki zapisywać w tabeli A2[#].

5.2.4. Pomiar pasma przenoszenia wzmacniacza operacyjnego

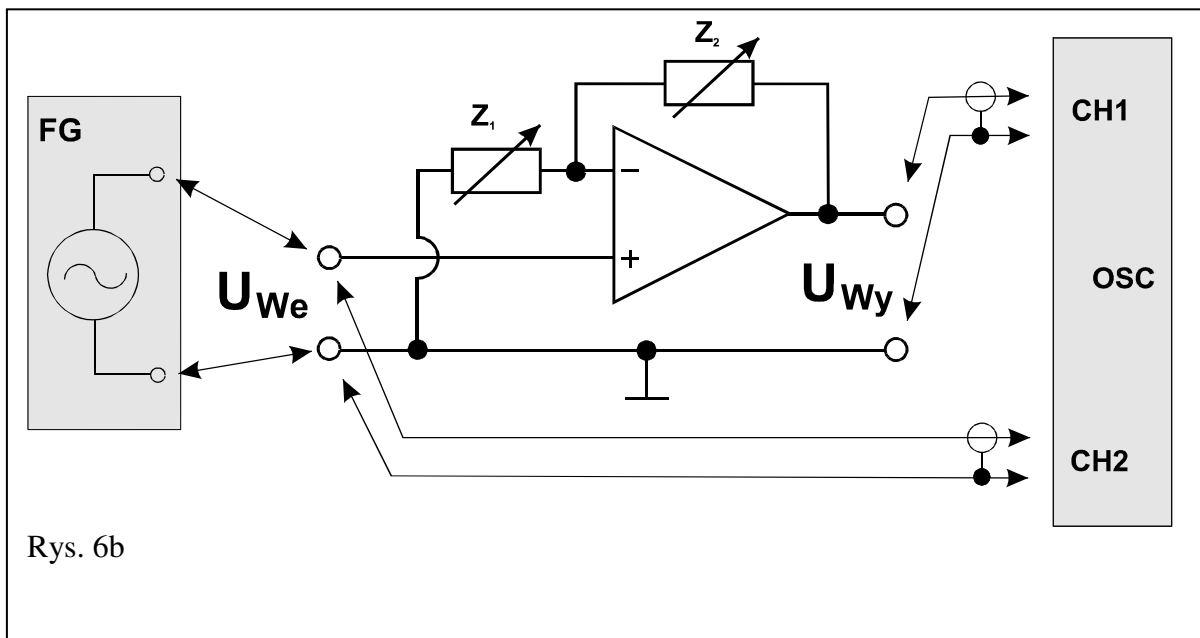
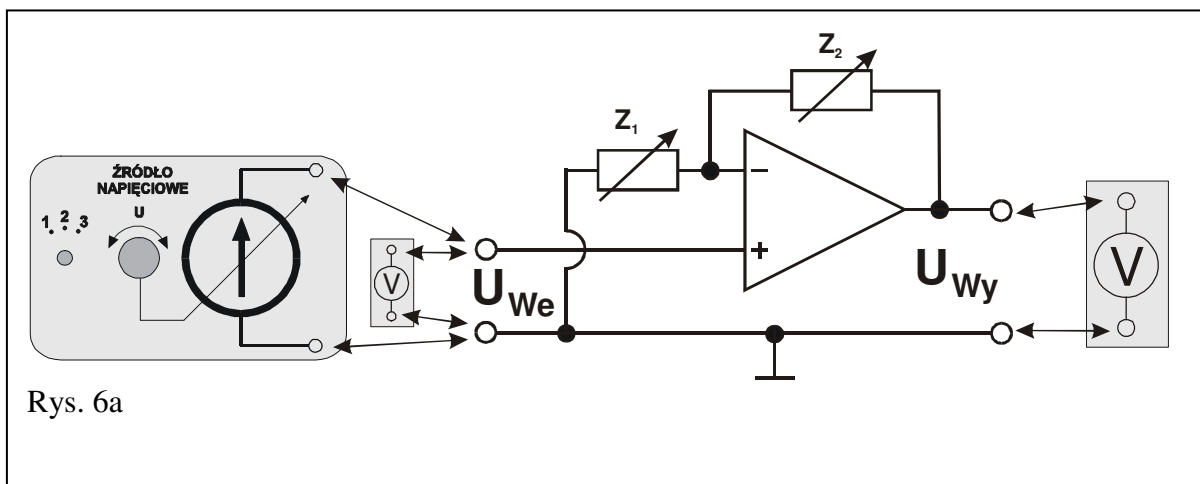
1. Odłączyć Źródło Napięciowe i multimetry pracujące w trybie woltomierzy DC.
2. Zgodnie z Rys. 6b zamiast Źródła Napięciowego podłączyć generator funkcyjny na wejście **We2** wzmacniacza operacyjnego (Rys. 6c).
3. Ustawić generator na tryb pracy z wybranym przebiegiem sinusoidalnym bez składowej stałej.
4. Do wyjścia **Wy** wzmacniacza (Rys. 6c) podłączyć oscyloskop ustawiony do pracy w trybie dwukanałowym (**DUAL**).
5. Pozycję przełącznika Z_1 ustawić na „1”, przełącznika Z_2 na „3” zaś R_L na „∞”.
6. Ustalić częstotliwość sygnału z generatora na ok. **500 kHz** (0,5 MHz).
7. Dobrać amplitudę napięcia z generatora oraz czułość oscyloskopu tak, aby przebieg napięcia na wyjściu wzmacniacza nie był zniekształcony. Zmniejszyć częstotliwość sygnału z generatora do ok. **300 Hz** i dokonać pomiaru wartości amplitudy sygnału wejściowego i wyjściowego. Amplitudę wyjściową potraktować jako wartość odniesienia podczas wykonywania kolejnych pomiarów.
8. Zwiększając stopniowo częstotliwość generatora (aż do ok. 500 kHz) określić takie częstotliwości, przy których amplituda sygnału wyjściowego maleje kolejno: 2 razy, 3 razy, 4 razy, 5 razy, 6 razy, 8 razy, 10 razy itp. Znaleźć ewentualnie więcej charakterystycznych częstotliwości pośrednich tak, aby dokładniej zrealizować punkt 8 opracowania wyników pomiarów opisany w Rozdziale 6 niniejszej instrukcji.
9. Za każdym razem zwracać szczególną uwagę czy sygnał wyjściowy nie jest zniekształcony. Dążyć do tego, aby nie był on „obcinany” od góry i od dołu. Przerysować wygląd ekranu oscyloskopu szczegółowo go opisując (nastawy oscyloskopu, rodzaj wzmacniacza, Z_1 , Z_2 , wzmocnienie, częstotliwość).

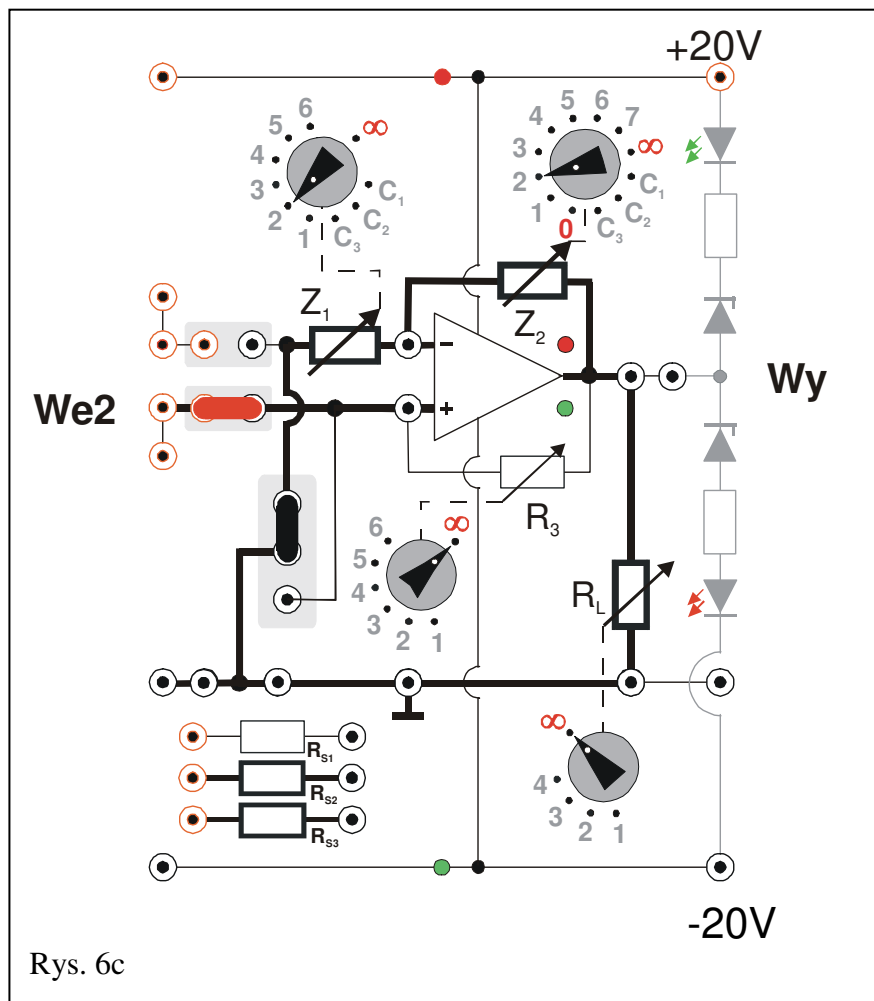
5.2.5. Pomiar współczynnika wzmocnienia wzmacniacza operacyjnego dla napięć zmiennych

1. Mając zestawiony układ jak w poprzednim punkcie ustawić częstotliwość generatora na ok. **300 Hz**.
2. Zmieniając nastawy przełączników Z_1 i Z_2 obserwować przebiegi: wejściowy i wyjściowy zwracając uwagę, aby przebieg wyjściowy nie był zniekształcony. Kiedy wystąpi zniekształcenie należy skorygować wielkość

sygnału wyjściowego zmieniając w generatorze amplitudę sygnału wejściowego.

3. Dla kilku wybranych kombinacji nastaw przełączników Z_1 i Z_2 dokonać pomiaru amplitudy napięcia sygnału wejściowego i wyjściowego wzmacniacza. Wyniki zapisywać w tabeli A2 z adnotacją „Przebiegi zmienne”. Otrzymane pomiary są niezbędne do realizacji punktu 10 opracowania wyników pomiarów przedstawionego w Rozdziale 6 niniejszej instrukcji.





5.3. Wzmacniacz w układzie nieodwracającym – wtórnik – wersja rozszerzona

(Schemat ideowy wg Rys. 7a; panel pomiarowy opisano na Rys. 7b).

Objaśnienia: FG – generator, OSC – oscyloskop, CH1 i CH2 – wejścia oscyloskopu, V – woltomierz.

Włączyć zasilacz, ustawić go w tryb **SERIAL**, a następnie nastawić symetryczne napięcie zasilania $\pm 20V$, nie załączając napięcia na wyjściach zasilacza.

5.3.1. Wyznaczenie charakterystyki przejściowej wzmacniacza operacyjnego

1. Dokonać połączeń wg Rys. 7b, tzn. jedną zworę (pionową - czarną) wpiąć w górne położenie lub usunąć, drugą (poziomą - czerwoną) w położenie obok **We2**, przełączniki **R₃** i **R_L** ustawić na „ ∞ ”. Multimetry pracujące jako woltomierze ustawić na zakres pomiaru napięć stałych 20 VDC lub 40 VDC (w zależności od użytego multimetru) i następnie jeden miernik wpiąć pomiędzy gniazdo masy (\perp) a wejście **We2** oraz drugi miernik pomiędzy gniazdo masy (\perp) a wyjście **Wy**.
2. Pokrętko **Z₁** ustawić w pozycji „ ∞ ” zaś **Z₂** ustawić w pozycji „0” (Rys. 7b). Przełącznik w Źródle Napięciowym ustawić na poz. „2”.
3. Źródło napięciowe dołączyć pomiędzy gniazda masy (\perp) a wejście **We2** (Rys. 7a).
4. Po weryfikacji/sprawdzeniu układu przez opiekuna załączyć napięcie na wyjściach zasilacza.
5. Zmieniając gałką **ŹN** wartość napięcia wejściowego od $-12V$ do $+12V$ (z krokiem co około 1V) dokonać pomiaru napięcia wyjściowego (charakterystyka przejściowa), a wyniki zapisywać w tabeli A3.

Tabela A3 / (A3[#]) - Wzmacniacz nieodwracający – wtórnik.

| $Z_1 / (R_{S2}^{\#})$ | $Z_2 / (R_L^{\#})$ | Napięcie wejściowe | | Napięcie wyjściowe | |
|-----------------------|--------------------|--------------------|---------------------|--------------------|---------------------|
| [k Ω] | [k Ω] | U_{We} [V] | ΔU_{We} [V] | U_{Wy} [V] | ΔU_{Wy} [V] |
| | | | | | |

5.3.2. Pomiar rezystancji wejściowej wzmacniacza operacyjnego.

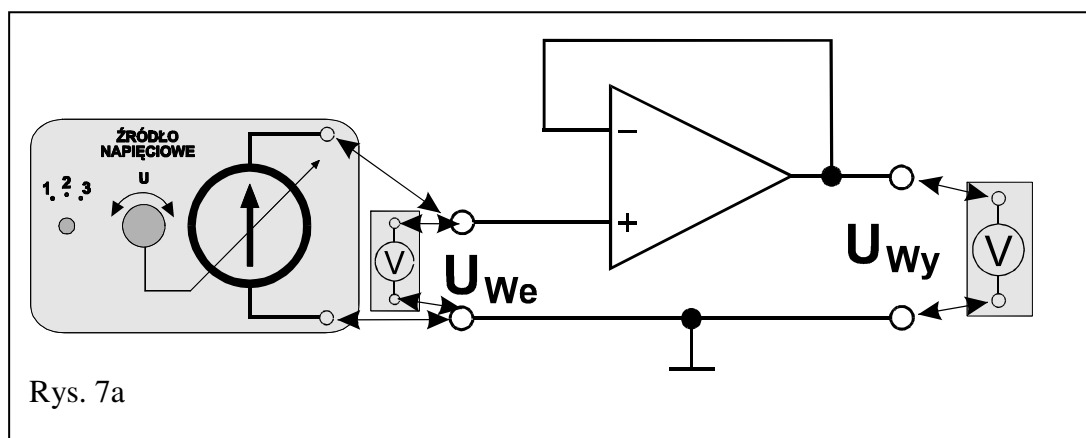
1. Wyznaczyć napięcie na wyjściu wzmacniacza przy jednym napięciu na jego wejściu wybranym w obszarze ukośnej części charakterystyki przejściowej.
2. Wypiąć zworę z położenia obok **We2** (Rys. 7b). W jej miejsce podłączyć rezystor **R_{S2}**.
3. Nie dokonując zmiany napięcia na wejściu wzmacniacza dokonać pomiaru napięcia wyjściowego.
4. Powtórzyć poprzedni pomiar dla rezystora **R_{S3}** zamiast **R_{S2}**. Wyniki pomiarów z punktów 1÷4 zapisywać w tabeli A3[#].
5. Odłączyć rezystor **R_{S3}**.

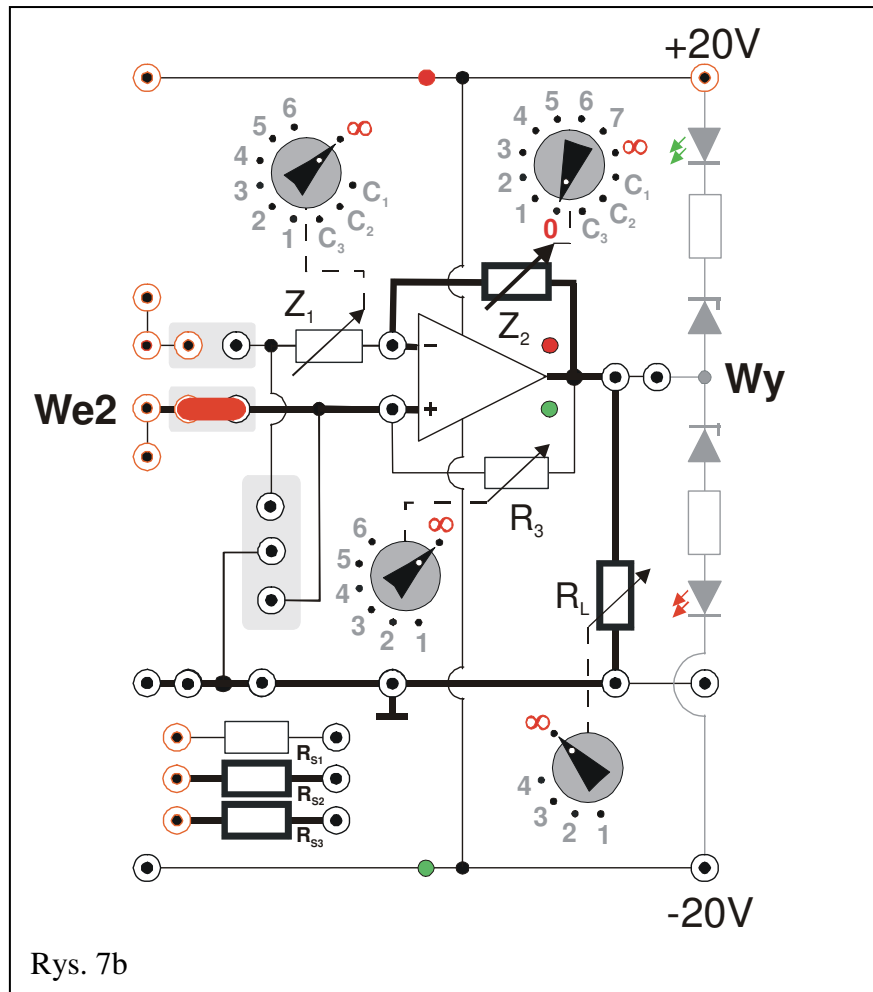
5.3.3. Pomiar rezystancji wyjściowej wzmacniacza operacyjnego

1. Ponownie zapiąć zworę w położenie obok **We2** (Rys. 7b).
2. Zadać napięcie na wejściu wzmacniacza tak, aby napięcie na wyjściu uzyskało wartość ok. +12V.
3. Przelącać kolejno pozycje przełącznika rezystora **R_L** notując każdorazowo wartości napięcia wyjściowego. Wyniki zapisywać w tabeli A3[#].

5.3.4. Pomiar pasma przenoszenia wzmacniacza operacyjnego

1. Odłączyć Źródło Napięciowe i multimetry pracujące w trybie woltomierzy DC.
2. Zgodnie z rys. 6b zamiast Źródła Napięciowego podłączyć generator funkcyjny na wejście **We2** wzmacniacza operacyjnego (rys. 7b).
3. Ustawić generator na tryb pracy z wybranym przebiegiem sinusoidalnym bez składowej stałej.
4. Do wyjścia **Wy** wzmacniacza (rys. 7b) podłączyć oscyloskop ustawiony do pracy w trybie dwukanałowym (**DUAL**).
5. Pokrętkę **Z₁** ustawić w pozycji „∞”, **Z₂** ustawić w pozycji „0” (rys. 7b), zaś **R_L** na „∞”.
6. Ustalić częstotliwość sygnału z generatora na ok. **1500 kHz** (1,5 MHz).
7. Dobrać amplitudę napięcia z generatora oraz czułość oscyloskopu tak, aby przebieg napięcia na wyjściu wzmacniacza nie był zniekształcony. Zmniejszyć częstotliwość sygnału z generatora do ok. **300 Hz** i dokonać pomiaru wartości amplitudy sygnału wejściowego i wyjściowego. Amplitudę wyjściową potraktować jako wartość odniesienia podczas wykonywania kolejnych pomiarów.
8. Zwiększając stopniowo częstotliwość generatora (aż do 1500 kHz) sprawdzić czy ma to wpływ na wartość amplitudy sygnału wyjściowego. Określić maksymalny spadek amplitudy sygnału wyjściowego w badanym zakresie częstotliwości (należy pamiętać, że w przypadku idealnego wtórnika spadek amplitudy jest niemierzalny).
9. Przerysować wygląd ekranu oscyloskopu szczegółowo go opisując (nastawy oscyloskopu, rodzaj wzmacniacza, **Z₁**, **Z₂**, wzmocnienie, częstotliwość).





6. Wskazówki do raportu

Raport powinien zawierać:

1. Stronę tytułową (wg wzoru).
 2. Wstęp i formułowanie celu ćwiczenia.
 3. Schematy układów pomiarowych.
 4. Wykaz aparatury (nr inwentarzowy, typ, wykorzystywane nastawy i zakresy).
 5. Stabelaryzowane wyniki pomiarów.
 6. Wykresy i analizę wyników.
 7. Uwagi końcowe i wnioski.
- Wstęp do sprawozdania powinien zawierać definicje podstawowych pojęć występujących w sprawozdaniu.
 - W celu łatwiejszego i jednoznacznego odwoływania się do wzorów występujących we wstępie jak i w dalszej części sprawozdania wszystkie z nich powinny być opatrzone numerami porządkowymi.
 - W sprawozdaniu należy umieścić schematy tylko takich układów, które były rzeczywiście zestawiane w trakcie wykonywania pomiarów. Każdy schemat powinien być opatrzony numerem kolejnym i zatytułowany. Wszystkie elementy pokazane na schemacie muszą być jednoznacznie opisane i oznaczone za pomocą powszechnie stosowanej symboliki.
 - W wykazie aparatury należy jednoznacznie opisać używaną aparaturę pomiarową poprzez podanie numeru inwentarzowego, typu itd. Nadane poszczególnym przyrządom oznaczenia należy konsekwentnie stosować na wszystkich schematach i w opisach.
 - Jako wyniki pomiarów należy zamieścić tabele ze zmierzonymi wartościami. Każda tabela powinna posiadać swój kolejny numer i tytuł.
 - Wszystkie wykresy wykonane na podstawie przeprowadzonych pomiarów powinny mieć numery porządkowe oraz podpisy zawierające informację o tym co dany wykres przedstawia.

Wykorzystując otrzymane dane pomiarowe należy:

1. Na wspólnym rysunku wykreślić charakterystyki przejściowe wzmacniacza odwracającego $U_{wy} = f(U_{we})$.
2. Z otrzymanych wykresów charakterystyk przejściowych wyznaczyć wzmocnienie napięciowe wzmacniacza odwracającego dla poszczególnych kombinacji Z_2 i Z_1 oraz porównać je z wyliczonymi dla tych kombinacji wartościami wzmocnienia, posługując się zależnościami:

$$k_u^t = -\frac{Z_2}{Z_1} \quad \text{oraz} \quad k_u = \frac{U_{wy}}{U_{we}} \quad (1a)$$

3. Na wykresie (w skali półlogarytmicznej) przedstawić zależność amplitudowego współczynnika wzmocnienia wzmacniacza odwracającego k_u^A wyrażonego w dB (zdefiniowanego jako 20 logarytmów dziesiętnych z ilorazu amplitudy napięcia na

wyjściu WO i amplitudy na wejściu WO – patrz wzory poniżej), od częstotliwości wzmacnianego zmiennego napięcia dla ustalonej kombinacji \mathbf{Z}_2 i \mathbf{Z}_1 (przykładowy wykres zależności przedstawiono na rys. 8). Wzmocnienie otrzymane na podstawie pomiarów \mathbf{k}_u^A porównać ze wzmocnieniem teoretycznym \mathbf{k}_u^{tA}

$$\mathbf{k}_u^{tA} [\text{dB}] = 20 \log \left(\left| \frac{\mathbf{Z}_2}{\mathbf{Z}_1} \right| \right) \quad \text{oraz} \quad \mathbf{k}_u^A [\text{dB}] = 20 \log \left(\left| \frac{\mathbf{U}_{wy}}{\mathbf{U}_{we}} \right| \right). \quad (1b)$$

4. Z pomiarów spadków napięcia wyjściowego, jako efektu dołączenia opornika szeregowego do wejścia (\mathbf{R}_{S1}) bądź obciążającego wyjście (\mathbf{R}_L), wyliczyć odpowiednio rezystancję wejściową i rezystancję wyjściową wzmacniacza odwracającego ze sprzężeniem zwrotnym, posługując się zależnościami:

$$\mathbf{R}_{WE} = \frac{\mathbf{R}_{S1}}{\frac{\mathbf{U}_{WY}}{\mathbf{U}_{WY R_{S1}}} - 1}; \quad \mathbf{R}_{WY} = \mathbf{R}_L \left(\frac{\mathbf{U}_{WY}}{\mathbf{U}_{WY RL}} - 1 \right). \quad (2)$$

Wyprowadzić odpowiednie wzory i obliczyć złożone niepewności pomiarowe $\Delta \mathbf{R}_{WE}$ oraz $\Delta \mathbf{R}_{WY}$ [7], zaniedbując przy tym niepewności pomiarów bezpośrednich $\Delta \mathbf{R}_{S1}$ oraz $\Delta \mathbf{R}_L$.

5. Z pomiarów amplitudy zmiennych napięć sygnałów wejściowych i wyjściowych wzmacniacza odwracającego przy zadanych kombinacjach \mathbf{Z}_1 i \mathbf{Z}_2 wyznaczyć współczynniki wzmocnienia i dokonać ich porównania korzystając ze wzorów (1b).
6. Wykreślić charakterystyki przejściowe wzmacniacza nieodwracającego oraz wtórника.
7. Z otrzymanych wykresów charakterystyk przejściowych wyznaczyć wzmocnienie napięciowe \mathbf{k}_u wzmacniacza nieodwracającego dla poszczególnych kombinacji \mathbf{Z}_2 i \mathbf{Z}_1 oraz dla wtórника ($\mathbf{Z}_2 = 0$) i porównać je z wyliczonymi dla tych kombinacji teoretycznymi wartościami wzmocnienia \mathbf{k}_u^t , posługując się zależnościami:

$$\mathbf{k}_u^t = 1 + \frac{\mathbf{Z}_2}{\mathbf{Z}_1} \quad \text{oraz} \quad \mathbf{k}_u = \frac{\mathbf{U}_{wy}}{\mathbf{U}_{we}}. \quad (3a)$$

8. Na niezależnych wykresach (w skali półlogarytmicznej) przedstawić zależności amplitudowego współczynnika wzmocnienia wzmacniacza nieodwracającego od częstotliwości wzmacnianego zmiennego napięcia dla ustalonej kombinacji \mathbf{Z}_2 i \mathbf{Z}_1 (patrz pkt. 3 oraz rys. 8)

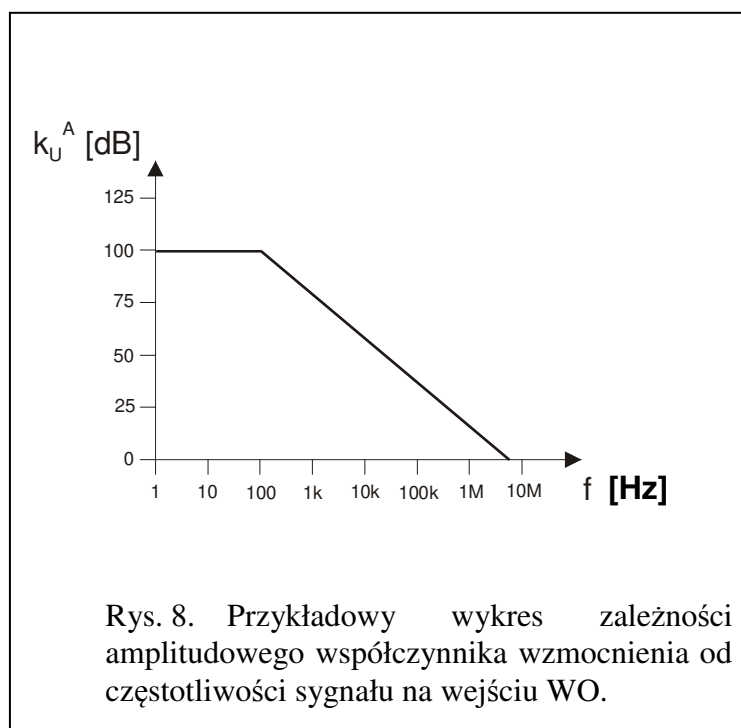
$$\mathbf{k}_u^{tA} [\text{dB}] = 20 \log \left(\left| 1 + \frac{\mathbf{Z}_2}{\mathbf{Z}_1} \right| \right) \quad \text{oraz} \quad \mathbf{k}_u^A [\text{dB}] = 20 \log \left(\left| \frac{\mathbf{U}_{wy}}{\mathbf{U}_{we}} \right| \right). \quad (3b)$$

9. Z pomiarów spadków napięcia wyjściowego, jako efektu dołączenia opornika szeregowego do wejścia (\mathbf{R}_{S2} i \mathbf{R}_{S3}) bądź obciążającego wyjście (\mathbf{R}_L), wyliczyć odpowiednio rezystancję wejściową i rezystancję wyjściową wzmacniacza nieodwracającego ze sprzężeniem zwrotnym oraz wtórника, posługując się zależnościami:

$$\mathbf{R}_{WE} = \frac{\mathbf{R}_{S2}}{\frac{U_{WY}}{U_{WY Rs2}} - 1}; \quad \text{i/lub} \quad \mathbf{R}_{WE} = \frac{\mathbf{R}_{S3}}{\frac{U_{WY}}{U_{WY Rs3}} - 1}; \quad \mathbf{R}_{WY} = \mathbf{R}_L \left(\frac{U_{WY}}{U_{WY RL}} - 1 \right). \quad (4)$$

Wyprowadzić odpowiednie wzory i obliczyć złożone niepewności pomiarowe $\Delta \mathbf{R}_{We}$ oraz $\Delta \mathbf{R}_{Wy}$ [7], zaniedbując przy tym niepewności pomiarów bezpośrednich $\Delta \mathbf{R}_S$ oraz $\Delta \mathbf{R}_L$.

10. Z pomiarów amplitudy zmiennych napięć sygnałów wejściowych i wyjściowych wzmacniacza nieodwracającego przy zadanych kombinacjach \mathbf{Z}_1 i \mathbf{Z}_2 wyznaczyć współczynniki wzmocnienia i dokonać ich porównania korzystając ze wzorów (3b).



W raporcie ocenie podlegać będzie obecność i poprawność wszystkich wymienionych powyżej składników, czytelność prezentacji wyników w postaci tabel, wykresów, oscylogramów i odczytów z oscylogramów wraz z opisami oraz jakość sformułowanych wniosków.

7. Literatura

7.1. Literatura podstawowa

- [1] M. Rusek, J. Pasierbiński, *Elementy i układy elektroniczne w pytaniach i odpowiedziach*, WNT, Warszawa, 1999.
- [2] M. Nadachowski, Z. Kulka, *Scalone układy analogowe*, WKiŁ, Warszawa, 1985.
- [3] Z. Nosal, J. Baranowski, *Układy elektroniczne. Cz. I. Układy analogowe liniowe*, Seria Podręczniki Akademickie, (Elektronika, Informatyka, Telekomunikacja), WNT, Warszawa, 2003.
- [4] A. Filipowski, *Układy elektroniczne analogowe i cyfrowe*, Seria Podręczniki Akademickie, (Elektronika, Informatyka, Telekomunikacja), WNT, Warszawa, 2005.
- [5] P. Horowitz, W. Hill, *Sztuka elektroniki. Cz. 1.*, (tłum. ang.), WKiŁ, Warszawa, 2003.

7.2. Literatura uzupełniająca

- [6] Instrukcje obsługi do multimetrów, zasilacza laboratoryjnego, generatora funkcyjnego i oscyloskopu dostępne są na stronie internetowej:
<https://fizyka.p.lodz.pl/pl/dla-studentow/podstawy-elektroniki/peim-zasoby/>
- [7] Ł. Piskorski, *Wyznaczanie niepewności pomiarów*, Skrypt PŁ, Łódź, 2019 (WIKAMP, Pracownia Fizyczna):
<https://ftims.edu.p.lodz.pl/mod/resource/view.php?id=62256>

8. Aneks

Wartości rezystancji dla: Z_1 , Z_2 , R_3 , R_L , R_{S1} , R_{S2} , R_{S3} oraz pojemności dla: C_1 , C_2 i C_3 .

| Z_1 | |
|----------|-----------------|
| Pozycja | Wartość |
| 1 | 5 k Ω |
| 2 | 10 k Ω |
| 3 | 15 k Ω |
| 4 | 20 k Ω |
| 5 | 25 k Ω |
| 6 | 30 k Ω |
| | |
| ∞ | $\infty \Omega$ |
| | |
| C_1 | 0,1 μ F |
| C_2 | 1,0 μ F |
| C_3 | 10 μ F |

| Z_2 | |
|----------|-----------------|
| Pozycja | Wartość |
| 0 | 0 Ω |
| 1 | 10 k Ω |
| 2 | 20 k Ω |
| 3 | 50 k Ω |
| 4 | 100 k Ω |
| 5 | 200 k Ω |
| 6 | 500 k Ω |
| 7 | 1 M Ω |
| | |
| ∞ | $\infty \Omega$ |
| | |
| C_1 | 0,1 μ F |
| C_2 | 1,0 μ F |
| C_3 | 10 μ F |

| R_3 | |
|----------|-----------------|
| Pozycja | Wartość |
| 1 | 20 k Ω |
| 2 | 50 k Ω |
| 3 | 100 k Ω |
| 4 | 200 k Ω |
| 5 | 500 k Ω |
| 6 | 1 M Ω |
| | |
| ∞ | $\infty \Omega$ |

| R_L | |
|----------|-----------------|
| Pozycja | Wartość |
| 1 | 2 k Ω |
| 2 | 5 k Ω |
| 3 | 10 k Ω |
| 4 | 20 k Ω |
| | |
| ∞ | $\infty \Omega$ |

| | |
|----------|----------------|
| R_{S1} | 10 k Ω |
| R_{S2} | 300 k Ω |
| R_{S3} | 10 M Ω |